

1. Dibujar los siguientes elementos simples nombrándolos adecuadamente.

a) Un punto

b) Una recta - horizontal

- vertical

- oblicua

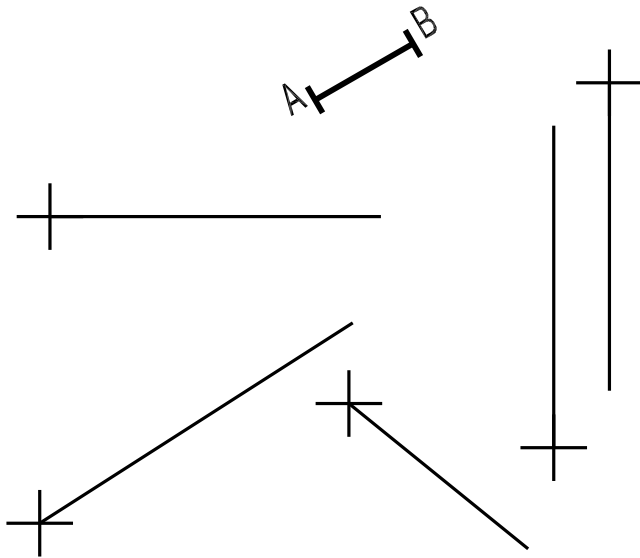
c) Una semirrecta

d) Un segmento de 3 cm

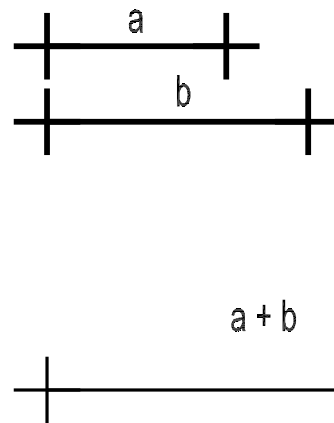
e) Una circunferencia de radio 2 cm

f) Una circunferencia de radio 1 cm

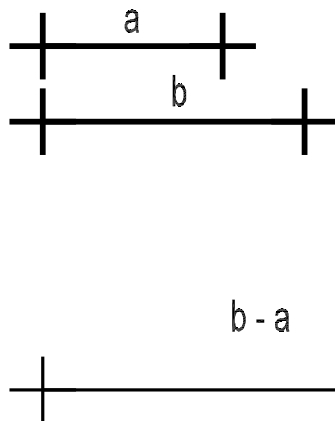
2. Transporta la medida AB en las distintas semirrectas dibujadas.



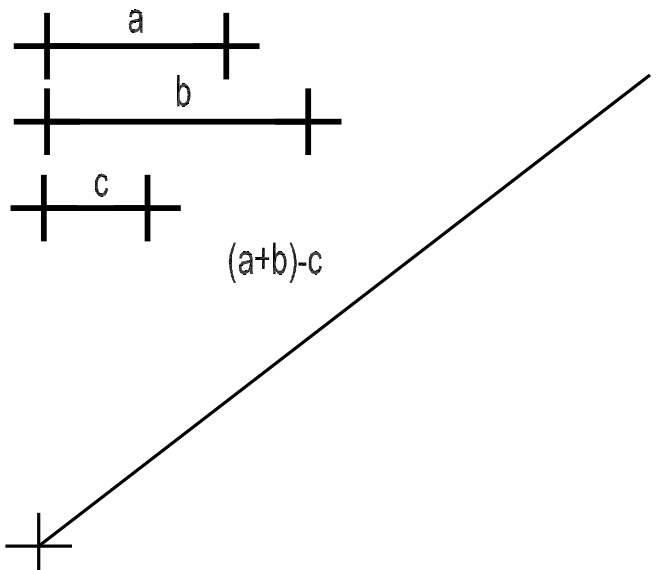
3. Suma los segmentos a y b.



4. Resta el segmento a al segmento b.



5. Suma los segmentos a y b y réstale el segmento c.



CURSO:

APELLIDOS Y NOMBRE:

EJERCICIO N°:

FECHA:

ELEMENTOS SIMPLES 1

NOTA