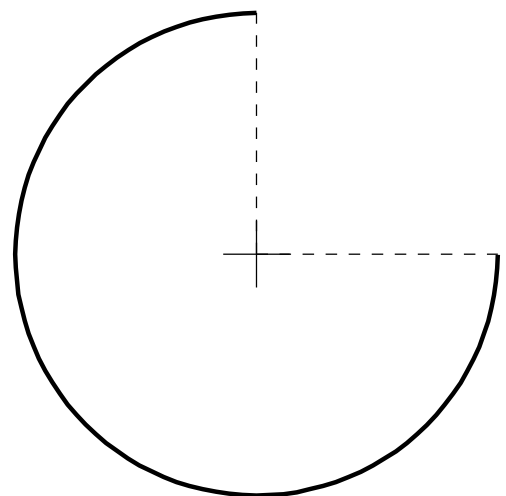
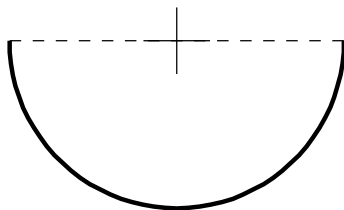
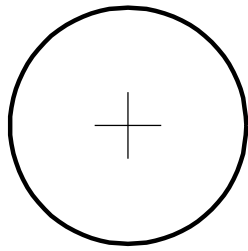


1. Rectificar los siguientes arcos de circunferencia.



CURSO:

APELLIDOS Y NOMBRE:

EJERCICIO Nº:

FECHA:

CIRCUNFERENCIA 5

NOTA