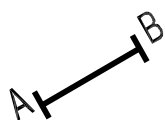


1. Dibujar una circunferencia cualquiera a la que pertenezca la cuerda AB.



2. Dibujar sobre el extremo A ángulos de 30° , 45° , 60° y 90° .



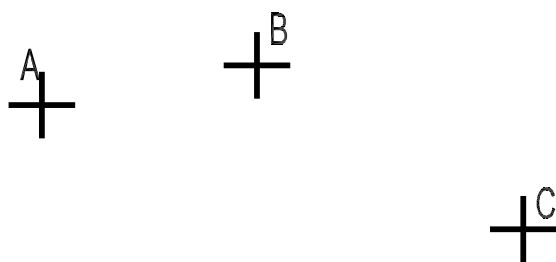
3. Dibujar una circunferencia de centro O y radio 3 cm.



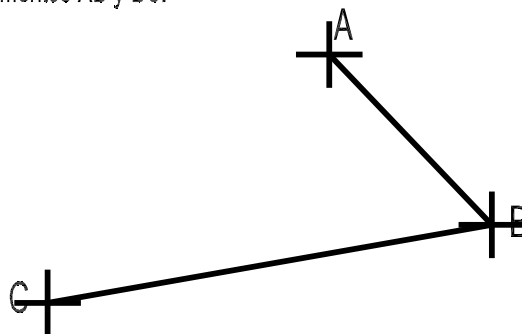
4. Dibujar una circunferencia de centro O y diámetro 5,5 cm.



5. Dibujar la circunferencia que pasa por los puntos A, B y C.



6. Dibujar la circunferencia que tiene como cuerdas los segmentos AB y BC.



CURSO:

APELLIDOS Y NOMBRE:

EJERCICIO N°:

FECHA:

CIRCUNFERENCIA 1

NOTA